


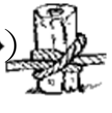


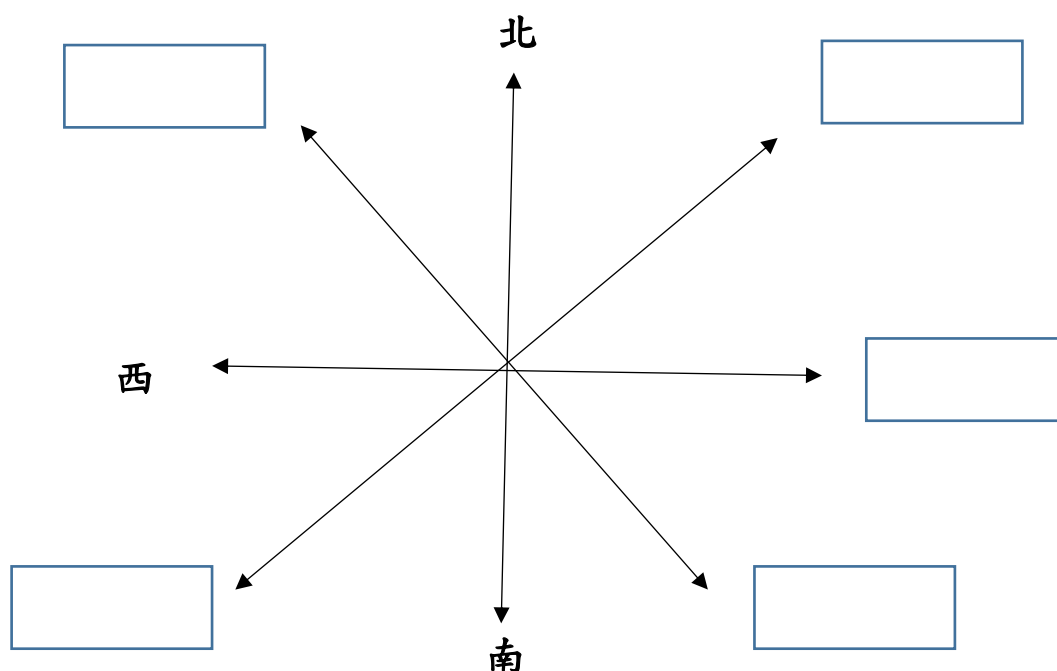
新北市立福和國中七年級童軍補考題庫

班級： 座號： 姓名：

一、選擇：(每題 10 分，共 50 分)

1. () 是一個極有用的基本繩結，也是許多繩結構成的基本元素，通常作為防止繩自一孔中滑出和防止繩端鬆散，是所有結中最容易結，體積最小的結，卻也是在拉力下最容易擠傷繩索的結。上列敘述的哪一個繩結？
(A)八字結 (B)單結 (C)瓶口結 (D)平結
2. () 在一繩端打成一固定圈的結法，而且不會滑脫和夾擠，可救人及自救用。請問上面敘述的是哪一個繩結？ (A) 雙半結 (B)雙套結 (C)漁人結 (D)稱人結。
3. () 關於繩頭的處理方法，下列何者是錯誤的？ (A)繩頭鬆散對繩子的結構沒有影響，還是可以正常使用，無需處理。(B)可利用細線纏繞法做處理 (C)可利用單結或八字結防止繩端散開。(D)利用膠帶纏緊也可以預防繩頭鬆散。
4. () 通常用於捆紮或包裹物件，或作為兩條有拉力的繩之連接。因為它的結形扁平，所以最適合用在綁紮繃帶。上列敘述的是哪一繩結？
(A)稱人結 (B)結繩結 (C)平結 (D)袋口結
5. () 請選出雙半結的正確結型 (A)  (B)  (C)  (D) 

二、填圖：請填入正確的方位名稱 (每題 10 分，共 50 分)



答案：B D A C C

